

Cargo: 304 - Professor Ensino Fundamental - Anos Finais – (6 ao 9 Ano) – Geografia

Fundamentos da Educação

1) A LDB nº 9394/96, em seu artigo 12 define que os estabelecimentos de ensino terão as seguintes incumbências:

- I. Prover meios para a recuperação dos alunos de menor rendimento.
- II. Ministrando os dias letivos e horas-aulas estabelecidos
- III. Notificar ao Conselho Tutelar do Município, ao juiz competente da Comarca e ao respectivo representante do Ministério Público a relação dos alunos que apresentem quantidade de faltas acima de cinquenta por cento do percentual permitido em lei.
- IV. Elaborar e cumprir plano de trabalho, segundo a proposta pedagógica do estabelecimento de ensino.
- V. Articular-se com as famílias e a comunidade, criando processos de integração da sociedade com a escola;

É correto o que se afirma em:

- a) I e III apenas.
 - b) I, II, III e V, apenas.
 - c) I, III e V, apenas.
 - d) I, II e III apenas.
 - e) I, II, III, IV e V
- 2)** De acordo com o artigo 3º da Lei de Diretrizes e Bases da Educação Nacional nº 9394/1996, o ensino será ministrado com base nos seguintes princípios, **EXCETO**:
- a) Igualdade de condições para o acesso e permanência na escola.
 - b) Garantia de padrão de qualidade.
 - c) Vinculação entre a educação escolar, o trabalho e as práticas sociais.
 - d) Consideração com a diversidade étnico-racial.
 - e) Uniformidade de ideias e de concepções pedagógicas.

3) De acordo com a Lei nº 8069/90. Estatuto da Criança e do Adolescente, julgue os itens como certos (C) ou errados (E).

- () Considera-se criança, para os efeitos desta Lei, a pessoa até doze anos de idade completos, e adolescente aquela entre doze e dezoito anos de idade.
- () O direito ao respeito consiste na inviolabilidade da integridade física, psíquica e moral da criança e do adolescente e limita-se preservação da imagem, da identidade, ideias e crenças.
- () Nenhuma criança ou adolescente será objeto de qualquer forma de negligência, discriminação, exploração, violência, crueldade e opressão, punido na forma da lei qualquer atentado, por ação ou omissão, aos seus direitos fundamentais.

A sequência correta é:

- a) E - C - C
- b) C - E - C
- c) E - C - E
- d) E - E - C
- e) C - C - C

4) Sendo a avaliação parte do processo de ensino e aprendizagem, o modo de avaliar está relacionado à concepção de ensino dos atores envolvidos nesse processo. A partir desse pressuposto analise as proposições a seguir:

- I. Reflete os valores e expectativas do professor em relação aos alunos.
- II. A avaliação é exclusividade do professor, o qual detém e domina os instrumentos adequados para sua aplicação.
- III. A avaliação deve ser contínua e cumulativa do desempenho do aluno, com prevalência dos aspectos qualitativos sobre os quantitativos e dos resultados ao longo do período sobre os de eventuais provas finais.
- IV. Avaliação é o processo de aferição de conhecimentos constituídos pelo aluno em determinado momento de sua trajetória

escolar e destina-se a avaliar a aprendizagem e não o ensino oferecido.

Assinale a opção correta.

- a) As proposições I, II e III são corretas.
 - b) Apenas as proposições I e III são corretas.
 - c) Apenas a proposição III é correta.
 - d) Apenas as proposições I, III e IV são corretas.
 - e) As proposições I, II, III e IV são corretas.
- 5)** Não se constitui diretriz do Plano Nacional de Educação.
- a) Promoção humanística, científica, cultural e tecnológica do país.
 - b) Superação das desigualdades educacionais, com ênfase na promoção da cidadania e na erradicação de todas as formas de discriminação.
 - c) Promoção da sustentabilidade socioeconômica
 - d) Formação para o trabalho e para a cidadania, com ênfase nos valores morais e éticos em que se fundamenta a sociedade;
 - e) Estabelecimento de meta de aplicação de recursos públicos em educação como proporção do Produto Interno Bruto - PIB, que assegure atendimento às necessidades de expansão, com padrão de qualidade e equidade.
- 6)** Com relação ao Planejamento Escolar, julgue os itens com verdadeiros (V) ou falsos (F).
- () Refletir sobre a prática para transformá-la e realizar as mediações necessárias para implementar essas mudanças são ações próprias de um enfoque dialético de planejamento de ensino.
 - () O Planejamento é uma ação pedagógica indispensável do processo de ensino, devido à sua concepção mecânica e burocrática.
 - () O planejamento proporciona uma visão homogênea da turma, o que possibilita, por sua vez, uma ação educativa mais eficaz.

() O Planejamento é um meio para se programar as ações docentes, mas é também um momento de pesquisa e reflexão intimamente ligado à avaliação.

A sequência correta é:

- a) V, V, F, V
 - b) V, F, V, F
 - c) F, V, V, F
 - d) F, V, F, V
 - e) V, F, F, V
- 7)** “Essa tendência defende que a função social e política da escola deve ser assegurar, através do trabalho com conhecimentos sistematizado, a inserção nas escolas, com qualidade, das classes populares garantindo as condições para uma efetiva participação nas lutas sociais.
- Esta tendência prioriza, na sua concepção pedagógica, o domínio dos conteúdos científicos, a prática de métodos de estudo, a construção de habilidades e raciocínio científico, como modo de formar a consciência crítica para fazer frente à realidade social injusta e desigual. Busca instrumentalizar os sujeitos históricos, aptos a transformar a sociedade e a si próprio. Sua metodologia defende que o ponto de partida no processo formativo do aluno seja a reflexão da prática social, ponto de partida e de chegada, porém, embasada teoricamente”.
- O texto acima descreve a:
- a) Tendência Liberal Tradicional
 - b) Tendência Liberal Renovada não-diretiva
 - c) Tendência Liberal Tecnicista
 - d) Tendência Progressista Libertadora
 - e) Tendência Progressista Crítico-Social dos Conteúdos

8) “Nesta tendência pedagógica, a atividade escolar deve centrar-se em discussões de temas sociais e políticos e em ações concretas sobre a realidade social imediata. O professor deve agir como um coordenador de atividades, aquele que organiza e atua conjuntamente com os alunos. Seus defensores lutavam por uma escola conscientizadora, que problematizasse a realidade e trabalhasse pela transformação radical da sociedade capitalista.”

O texto acima descreve a:

- a) Tendência Liberal Renovada não-diretiva
- b) Tendência Progressista Crítico-Social dos Conteúdos
- c) Tendência Progressista Libertadora
- d) Tendência Liberal Tradicional
- e) Tendência Progressista Libertária

9) Com referência à educação inclusiva, julgue os itens como certos (C) ou errados (E).

- () A inclusão não leva em conta as diferenças individuais e as diversas situações.
- () A escola inclusiva, busca a reorientação curricular, propondo uma nova forma de abordar os conteúdos curriculares no cotidiano escolar.
- () A inclusão escolar, tem como pressuposto a construção de uma escola acolhedora, onde não existam critérios ou exigências de natureza alguma, nem mecanismos de seleção ou discriminação para o acesso e a permanência com sucesso de todos os alunos.
- () Na perspectiva da educação inclusiva, a educação especial apresenta-se como uma proposta importante, com um projeto separado da proposta da escola regular.

A sequência correta é:

- a) E - E - C - E
- b) C - C - C - E
- c) E - C - C - E
- d) E - C - E - E
- e) C - C - E - E

10) Os Parâmetros Curriculares Nacionais foram elaborados procurando, de um lado, respeitar diversidades regionais, culturais, políticas existentes no país e, de outro, considerar a necessidade de construir referências nacionais comuns ao processo educativo em todas as regiões brasileiras. Com relação aos Parâmetros Curriculares Nacionais, é **incorreto** afirmar:

- a) De acordo com os Parâmetros Curriculares Nacionais, na seleção dos conteúdos deve-se levar em conta sua relevância social.
- b) Na perspectiva dos Parâmetros Curriculares Nacionais, os temas transversais não se constituem novas áreas de conhecimentos.
- c) No contexto dos PCN's, a avaliação deve assumir um caráter de terminalidade e de medição de conteúdos aprendidos.
- d) São temas transversais definidos nos PCN's: Ética, Saúde, Meio Ambiente, Orientação Sexual, Pluralidade Cultural e Trabalho e Consumo.
- e) Os Parâmetros Curriculares Nacionais propõem a ressignificação dos conteúdos para além de fatos e conceitos, incluindo procedimentos, valores, normas e atitudes.

11) Analise as proposições com referência ao Projeto Político Pedagógico.

- I. O Projeto Político Pedagógico norteia-se na premissa de constituir uma escola baseada na democracia e qualidade de ensino para todos.
- II. As bases de um Projeto Político Pedagógico devem estar estruturadas num processo de planejamento participativo, com a participação de pais, professores, alunos, funcionários e comunidade.
- III. Dever ser elaborado coletivamente, a partir de amplo e aprofundado processo de diagnóstico, análise e proposições de alternativas.
- IV. O Projeto Político Pedagógico não precisa ter pertinência histórica, nem contextualização social.

Marque a opção correta.

- a) As proposições I, II, III e IV estão corretas.
- b) Apenas as proposições I, II e III são corretas.
- c) Apenas a proposição III é incorreta.
- d) Apenas as proposições I e III são corretas.
- e) Apenas as proposições I e II são corretas.

12) Com referência ao currículo escolar, julgue os itens como verdadeiros (V) ou falsos (F).

- () Toda proposta curricular é sempre neutra e não apresenta, portanto nenhum aspecto político ideológico.
- () O currículo deve ser concebido como um dos elementos centrais do processo de educação institucionalizada.
- () Pode-se afirmar que o currículo sempre apresenta tendências relacionadas a gênero, etnia e outros aspectos ideológicos.

A sequência correta é:

- a) V, F, F
- b) F, V, V
- c) V, F, V
- d) F, V, F
- e) F, F, V

Noções de Informática

13) Considere a planilha do Microsoft Excel 2010, parcialmente visualizada abaixo:

	Cargo	Qtd Inscritos
1		
2	101 - Auxiliar Operacional	706
3	102 - Vigia	511
4	103 - Motorista Categoria D	60
	104 - Operador de Maquinas Pesadas	
5		17

Qual é a fórmula correta para efetuar a soma total de candidatos inscritos?


- a) =SOMA(G2:G9).
- b) =SOMA(G2;G6).
- c) =ADIÇÃO(G1;G5).
- d) =SOMA(G2+G6).

e) =SOMA(G2&G6).

14) Assim como o Google Chrome e Internet Explorer, são ferramentas de navegação de Internet, **EXCETO:**

- a) Safari
- b) Mozilla Firefox
- c) Netscape
- d) Corel Draw
- e) Opera



15) No Internet Explorer o botão  permite atualizar uma página armazenada no computador, forçando um acesso à Internet. Corresponde ao uso da tecla:

- a) Tecla F5
- b) Tecla F3
- c) Tecla F4
- d) Tecla F8
- e) Tecla F9

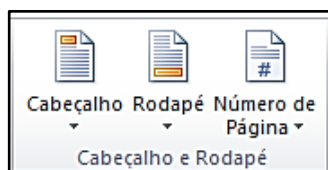
16) O E-mail ou correio eletrônico permite o recebimento e o envio de mensagens através da internet. Indique qual programa corresponde a um sistema de correio eletrônico:

- a) Google
- b) Microsoft Outlook
- c) Internet Explorer
- d) www.msn.com.br
- e) Mozilla Firefox

17) AVAST, AVG e NOD32 são programas:

- a) Desfragmentadores
- b) Editores de texto
- c) Formatadores
- d) Antivirus
- e) Planilhas eletrônicas

18) Considere a figura abaixo, extraída da interface do Microsoft Word 2010:



O grupo **Cabeçalho e Rodapé** está disponível na guia:

- a) Revisão.
- b) Página Inicial.
- c) Inserir.
- d) Exibição.
- e) Layout da página.

19) Os atalhos de teclado são combinações de teclas utilizadas como alternativa ao uso do mouse. Sobre os atalhos no Microsoft Office Word 2010, relacione a primeira coluna com a segunda:

- | | | |
|--------------------|-----|------------|
| 1. Aplicar Negrito | () | (Ctrl + B) |
| 2. Salvar | () | (Ctrl + P) |
| 3. Imprimir | () | (Ctrl + C) |
| 4. Copiar | () | (Ctrl + N) |

Marque a alternativa correta, na ordem de cima para baixo:

- a) 2 - 3 - 4 - 1
- b) 2 - 4 - 3 - 1
- c) 2 - 3 - 1 - 4
- d) 3 - 2 - 4 - 1
- e) 3 - 2 - 1 - 4

20) Julgue os itens abaixo como verdadeiros (V) ou falsos (F) a respeito do Windows Explorer:

- () É o programa utilizado no Windows para gerenciar os arquivos.
- () Permite criar, copiar, mover e remover todos os tipos de arquivos de dados no computador.
- () É um navegador que facilita a busca de arquivos no computador, tornando a busca mais eficiente.

A sequência correta, de cima para baixo, é:

- a) V - V - V
- b) V - V - F
- c) V - F - F
- d) F - V - V
- e) F - F - V

Conhecimentos Específicos

21) É a paisagem típica do centro-sul do Maranhão, nas áreas de planalto e chapadões. Caracteriza-se pela presença de arbustos e substrato de gramíneas. Essas áreas tem sido devastadas para dar lugar ao plantio de arroz, milho e soja.

A vegetação a que o texto se refere é:

- a) Floresta Equatorial
- b) Cerrado
- c) Mata dos Cocais
- d) Caatinga
- e) Manguezais

22) São características da urbanização brasileira, **EXCETO**:

- a) Teve como principal fator o êxodo rural devido à concentração fundiária e mecanização agrícola.
- b) Revela o processo excludente da modernização econômica do país.
- c) A urbanização do Brasil ocorreu na época colonial, em um processo essencialmente concentrador.
- d) É um processo associado a industrialização.
- e) É baseado no crescimento acelerado de algumas cidades, ocorrendo o fenômeno da conurbação.

23) Associe as duas colunas.

- (1) Calcário
- (2) Mármore
- (3) Basalto
- (4) Gabro
- (5) Silte

- () Rocha ígnea intrusiva
- () Rocha metamórfica
- () Rocha ígnea extrusiva
- () Rocha sedimentar orgânica
- () Rocha sedimentar detrítica

A sequência correta é:

- a) 5, 4, 3, 2, 1
- b) 3, 5, 4, 1, 2
- c) 4, 2, 3, 1, 5
- d) 2, 5, 4, 3, 1
- e) 4, 3, 2, 1, 5

24) Com relação a estrutura geológica, foram feitas as afirmações abaixo:

- I. Como exemplos de dobramentos modernos, podemos citar a Cordilheira do Himalaia e o Planalto das Guianas.
- II. Os escudos ou maciços antigos correspondem aos primeiros núcleos de rochas e datam do início da formação da crosta terrestre.
- III. É nos maciços antigos que são encontrados o carvão mineral e o petróleo.

Dessas afirmações.

- a) Apenas I e II são verdadeiras.
- b) Apenas II é verdadeira.
- c) Apenas III é verdadeira.
- d) Apenas II e III são verdadeira.
- e) I, II e III são verdadeiras.

25) Sobre a hidrografia do Maranhão é incorreto afirmar:

- a) O rio Itapecuru banha as cidades de Colinas, Codó e Rosário.
- b) Possui predominância de rios intermitentes.
- c) A Baixada Maranhense caracteriza-se pela grande concentração de lagos.
- d) Predomínio de rios com drenagem do tipo exorréica.
- e) A rede hidrográfica maranhense caracteriza-se pelo domínio de rios com foz do tipo estuário.

26) Com relação à Floresta Amazônica é incorreto afirmar:

- a) Ocupa grande parte do território brasileiro além de parte de países como Peru, Venezuela, Bolívia e Equador.
- b) É uma floresta predominantemente homogênea, latifoliada, decídua e pouco estratificada.
- c) Tem sido destruída pela ação irresponsável de mineradores e madeireiras.
- d) Localiza-se em região de baixas latitudes, marcada pela precipitação abundante e pequena amplitude térmica anual.
- e) Possui marcante presença de rios e grande biodiversidade.

27) Analise o mapa abaixo.

BRASIL - CLIMAS



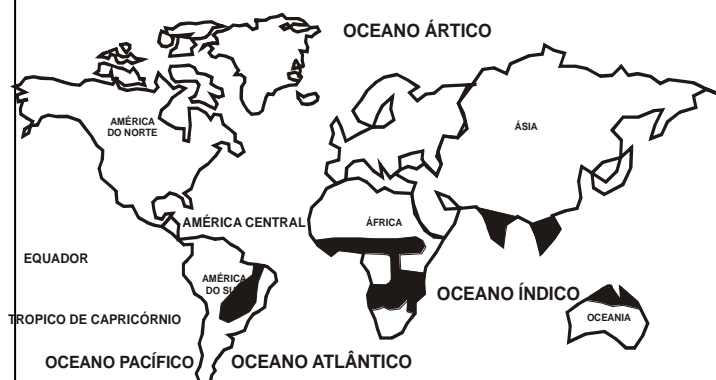
De acordo com a classificação climática de Strahler, as áreas 4, 1 e 3 correspondem respectivamente aos seguintes climas:

- a) Tropical semiárido, equatorial úmido e subtropical úmido.
- b) Subtropical, equatorial e tropical.
- c) Tropical semiárido, subtropical úmido e litorâneo úmido.
- d) Equatorial, tropical de altitude e subtropical úmido.
- e) Tropical de altitude, subtropical e equatorial.

28) Sabendo que Londres (0° Greenwich) são 23 h, que horas são em Santo Amaro do Maranhão que está situado a 45° Oeste de Greenwich?

- a) 7 horas
- b) 19 horas
- c) 21 horas
- d) 20 horas
- e) 22 horas

29) Observe o mapa abaixo, as áreas assinaladas, correspondem a uma formação vegetal do globo.



A formação vegetal que corresponde as áreas assinaladas é:

- a) Florestas temperadas;
- b) Savanas;
- c) Taiga;
- d) Florestas pluviais tropicais;
- e) Tundra

30) Assinale com **V** ou **F** as assertivas conforme sejam verdadeiras ou falsas em relação à hidrografia brasileira.

- () Há domínio de rios com foz do tipo estuário e drenagem endorreica.
- () A bacia Platina é totalmente brasileira.
- () O Rio São Francisco, importantíssimo rio para o Sertão Nordestino possui drenagem exorreica.
- () Na hidrografia brasileira há predomínio de rios de planícies, que lhes conferem elevado potencial hidrelétrico.

Assinale a sequência correta:

- a) F - F - V - F
- b) V - F - F - V
- c) F - V - V - V
- d) F - V - F - F
- e) V - V - F - F

31) A diferença entre as taxas de natalidade e as taxas de mortalidade, chama-se:

- a) Crescimento demográfico horizontal.
- b) Transição demográfica.
- c) Explosão demográfica.
- d) Crescimento vegetativo.
- e) Densidade demográfica

32) Analise as afirmações abaixo com relação à União Europeia.

- I. Atualmente é o bloco com o mais alto grau de integração, reúne países como República Tcheca, Polônia, Alemanha e Chipre.
- II. Pelo tratado de Roma, a Comunidade Europeia passou a ser denominada União Europeia.
- III. Em termos econômicos e comerciais, a potência dominante é a França.

Assinale:

- a) Apenas a afirmação I está correta.
- b) Apenas as afirmações I e II estão corretas
- c) As afirmações I, II e III estão incorretas.
- d) Apenas as afirmações II e III estão corretas.
- e) As afirmações I, II e III estão corretas.

33) Um jogo de futebol será realizado às 21 horas na cidade de Tóquio (9° fuso leste). Para assistir a esse jogo ao vivo os moradores de Manaus deverão ligar os televisores às:

- a) 8h
- b) 9h
- c) 10h
- d) 11h
- e) 7h

34) São agentes internos ou endógenos do relevo,.


- a) Intemperismo e ação antrópica
- b) Tectonismo e ação eólica
- c) Abalos sísmicos e ação dos rios
- d) Vulcanismo e tectonismo
- e) Intemperismo e Tectonismo.

35) “O Rio Itaipucu é o maior rio genuinamente maranhense, banha várias cidades do estado e recebe águas de muitos afluentes”.

São afluentes do Rio Itaipucu, **Exceto**:

- a) Rio Peritoró
- b) Rio Gameleira
- c) Rio Munim
- d) Rio Alpercatas
- e) Rio Codó

36) Considere a escala gráfica abaixo, observando que os intervalos na régua têm 1cm.



Qual é a escala numérica que corresponde a essa escala gráfica?

- a) 1: 250.000
- b) 1: 6.000.000
- c) 1: 180.00000
- d) 1: 300.000
- e) 1: 35000000

37) Com relação as escalas é incorreto afirmar:

- a) A escala de 1:75.000 é maior que a escala de 1: 350.000, por ser mais detalhada.
- b) Uma rodovia que possui 16,5 km de extensão é representada em um mapa com escala de 1:100.000, por 16,5cm.
- c) Em um mapa a escala estabelece a relação entre o tamanho real e sua representação no papel.
- d) Para se representar partes do espaço geográfico de dimensões pequenas como um bairro ou um sítio, utilizam-se escalas pequenas (1: 100 até 1: 20.000)
- e) A Escala 1:200 é uma escala grande.

38) Classificada como floresta aciculifoliada, a Mata dos Pinhais constitui paisagem bastante peculiar no território brasileiro, possui poucas espécies vegetais, com predomínio de pinheiros O domínio típico dessa formação vegetal brasileira é o (a):

- a) Depressão do Paraná
- b) Planalto Central
- c) Planície Costeira de Santa Catarina
- d) Planalto Meridional
- e) Depressão do Paraíba do Sul

39) Assinale com V ou F as proposições conforme sejam verdadeiras ou falsa em relação a população brasileira.

- () O Brasil é um dos países mais populosos do mundo, mas é pouco povoado;
- () A maior concentração populacional brasileira encontra-se na região Nordeste.
- () A distribuição da população Brasileira tem como componentes além dos fatores naturais, econômicos e históricos também os movimentos migratórios internos.

A sequência correta é:

- a) F - V - V
- b) V - F - V
- c) V - V - V
- d) F - F - V
- e) V - V - F

40) Esse tipo de vegetação, ocorre em regiões de altas latitudes nas quais predominam temperaturas adversas, onde o frio é intenso e rigoroso durante todo o ano. Cobre vastas extensões da Rússia, do Alasca, da Noruega, da Suécia, Finlândia e Canadá. Caracteriza-se por ser uma floresta homogênea com vegetais que se adaptam ao rigor do inverno pois possuem folhas aciculifoliadas”.

O texto acima faz referência a seguinte paisagem vegetal:

- a) Taiga
- b) Savanas
- c) Estepes
- d) Floresta Tropical
- e) Tundra